



CENTRUL NAȚIONAL PENTRU CURRICULUM ȘI EVALUARE

VIII. Országos Magyar Matematikaolimpia

XXXV. EMMV

megyei szakasz, 2026. február 7.

VIII. osztály

1. feladat (30 pont). Adottak az

$$a = (\sqrt{2} - 1)^{-1} + |1 - \sqrt{2}| - \left(\frac{1}{\sqrt{2}} - (2\sqrt{2})^{-1} \right) \cdot 2\sqrt{2} \quad \text{és}$$

$$b = \left(\left(\sqrt{9 + 4\sqrt{2}} \right)^{-1} + \left(\sqrt{9 - 4\sqrt{2}} \right)^{-1} \right) \cdot \left(\sqrt{9 + 4\sqrt{2}} + \sqrt{9 - 4\sqrt{2}} \right)$$

valós számok.

a) Számítsd ki az a és b számok egész részét!

b) Igazold, hogy az

$$E = \sqrt{4 - 4a + a^2} + \sqrt{b^2 - 6b + 9} - \sqrt{a^2 - 2ab + b^2}$$

egész szám!

Tóth Csongor, Szováta

Megoldás. Hivatalból

(3 pont)

a) Az a számot egyszerűbb alakra hozzuk:

$$\begin{aligned} a &= \frac{1}{\sqrt{2} - 1} + \sqrt{2} - 1 - \left(\frac{1}{\sqrt{2}} - \frac{1}{2\sqrt{2}} \right) \cdot 2\sqrt{2} \\ &= \sqrt{2} + 1 + \sqrt{2} - 1 - (2 - 1) \\ &= 2\sqrt{2} - 1. \end{aligned}$$

Mivel $\sqrt{2} \in (1, \frac{3}{2})$, ezért $2\sqrt{2} \in (2, 3)$, így $a \in (1, 2)$. Tehát az a szám egész része $[a] = 1$. (9 pont)

A b számot is egyszerűbb alakra hozzuk:

$$\begin{aligned}
 b &= \left(\left(\sqrt{9+4\sqrt{2}} \right)^{-1} + \left(\sqrt{9-4\sqrt{2}} \right)^{-1} \right) \cdot \left(\sqrt{9+4\sqrt{2}} + \sqrt{9-4\sqrt{2}} \right) \\
 &= 1 + \sqrt{\frac{9-4\sqrt{2}}{9+4\sqrt{2}}} + \sqrt{\frac{9+4\sqrt{2}}{9-4\sqrt{2}}} + 1 \\
 &= 2 + \frac{\sqrt{(9-4\sqrt{2})^2}}{\sqrt{49}} + \frac{\sqrt{(9+4\sqrt{2})^2}}{\sqrt{49}} \\
 &= 2 + \frac{|9-4\sqrt{2}|}{7} + \frac{|9+4\sqrt{2}|}{7} \\
 &= 2 + \frac{9-4\sqrt{2}}{7} + \frac{9+4\sqrt{2}}{7} \\
 &= 2 + \frac{18}{7} = \frac{32}{7}.
 \end{aligned}$$

Mivel $\frac{32}{7} \in (4, 5)$, ezért a b szám egész része $[b] = 4$.

(6 pont)

Megjegyzés. Észrevehetjük, hogy $9+4\sqrt{2} = (1+2\sqrt{2})^2$ és $9-4\sqrt{2} = (1-2\sqrt{2})^2$, így rövidebben is kiszámítható a b értéke.

b)

$$\begin{aligned}
 E &= \sqrt{4-4a+a^2} + \sqrt{b^2-6b+9} - \sqrt{a^2-2ab+b^2} \\
 &= \sqrt{(2-a)^2} + \sqrt{(b-3)^2} - \sqrt{(a-b)^2} \\
 &= |2-a| + |b-3| - |a-b|.
 \end{aligned}$$

(6 pont)

Továbbá

$$\begin{aligned}
 a < 2 &\implies |2-a| = 2-a, \\
 b > 3 &\implies |b-3| = b-3, \\
 a < b &\implies |a-b| = b-a.
 \end{aligned}$$

(3 pont)

Ez alapján

$$\begin{aligned}
 E &= 2-a+b-3-(b-a) \\
 &= 2-a+b-3-b+a \\
 &= -1 \in \mathbb{Z}.
 \end{aligned}$$

(3 pont)

■

2. feladat (30 pont). Az a és b nullától különböző természetes számok, $a > b$ és $m_a - m_g = 18$, ahol m_a és m_g az a és b számok számtani, illetve mértani közepét jelöli. Határozd meg az a és b természetes számokat a következő esetekben:

a) $\sqrt{a} + \sqrt{b} = 18$

b) $a - b = 120$

Simon József, Csíkszereda

Első megoldás. Hivatalból (3 pont)

a) Felhasználva, hogy $m_a = \frac{a+b}{2}$ és $m_g = \sqrt{ab}$, azt kapjuk, hogy

$$\frac{a+b}{2} - \sqrt{ab} = 18. \quad (3 \text{ pont})$$

Átalakítások után

$$a + b - 2\sqrt{ab} = 36 \iff (\sqrt{a} - \sqrt{b})^2 = 36. \quad (3 \text{ pont})$$

Mivel $a > b$, ezért $\sqrt{a} - \sqrt{b} = 6$.

(3 pont)

Tehát

$$\sqrt{a} + \sqrt{b} = 18 \text{ és } \sqrt{a} - \sqrt{b} = 6,$$

ahonnan következik, hogy $a = 144$ és $b = 36$.

(6 pont)

b) Az $a - b = 120$ egyenlőség ekvivalens azzal, hogy $(\sqrt{a} - \sqrt{b})(\sqrt{a} + \sqrt{b}) = 120$.

(3 pont)

Másrészt $\sqrt{a} - \sqrt{b} = 6$, így $\sqrt{a} + \sqrt{b} = 20$.

(3 pont)

Tehát

$$\sqrt{a} + \sqrt{b} = 20 \text{ és } \sqrt{a} - \sqrt{b} = 6,$$

ahonnan következik, hogy $a = 169$ és $b = 49$.

(6 pont)

■

Második megoldás. Hivatalból

(3 pont)

a) Mivel $a, b \in \mathbb{N}^*$ és $\sqrt{a} + \sqrt{b} = 18 \in \mathbb{N}$, ezért ismert, hogy \sqrt{a} és \sqrt{b} is természetes szám kell, hogy legyen. (3 pont)

Mivel $a > b$, ezért $\sqrt{a} > \sqrt{b}$. Ha $\sqrt{a}, \sqrt{b} \in \mathbb{N}^*$ és $\sqrt{a} + \sqrt{b} = 18$, valamint $\sqrt{a} > \sqrt{b}$, következik, hogy

$$(\sqrt{a}, \sqrt{b}) \in \{(17, 1), (16, 2), (15, 3), (14, 4), (13, 5), (12, 6), (11, 7), (10, 8)\},$$

vagyis

$$(a, b) \in \{(289, 1), (256, 4), (225, 9), (196, 16), (169, 25), (144, 36), (121, 49), (100, 64)\}, \quad (6 \text{ pont})$$

ahonnan

$$(m_a, m_g) \in \{(145, 17), (130, 32), (117, 45), (106, 56), (97, 65), (90, 72), (85, 77), (82, 80)\}.$$

Ezek a számpárok közül csak az $a = 144$ és $b = 36$ esetén lesz az $m_a - m_g = 18$.

(6 pont)

b) Hasonlóan, mint az előző megoldás esetén.

■

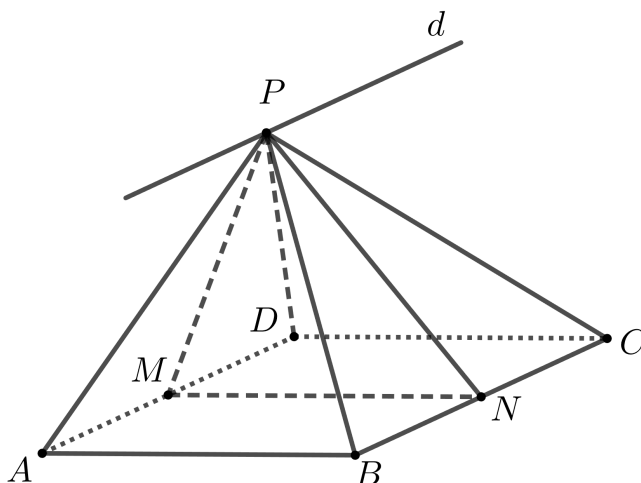
3. feladat (20 pont). Adott az $ABCD$ négyzet és a térben egy olyan P pont, amelyre a PAD háromszög egyenlő szárú és P -ben derékszögű, illetve a PBC háromszög egyenlő oldalú.

- Igazold, hogy a (PAD) és (PBC) síkok merőlegesek egymásra!
- Határozd meg a (PAD) és (PBC) síkoknak az $(ABCD)$ síkkal alkotott szögét!
- Bizonyítsd be, hogy az A pontnak a PD szakasz felezőpontja szerinti szimmetrikusa egybeesik a B pontnak a PC egyenes szerinti szimmetrikusával!

Simon József, Csíkszereda, Matlap 10/2025, A:2504

Megoldás. Hivatalból

(2 pont)



- Legyen d a P ponton áthaladó, AD -vel párhuzamos egyenes. Így d benne van a (PAD) síkban és mivel $AD \parallel BC$, a (PBC) síkban is. Tehát a (PAD) és (PBC) síkok metszésvonala a d egyenes. Jelölje M , illetve N az AD , valamint a BC szakasz felezőpontját, és legyen a négyzet oldalhossza $BC = a$. Mivel a PBC háromszög egyenlő oldalú, így $PN \perp BC$, de $BC \parallel d$, ezért $PN \perp d$. A PAD háromszögben $PA = PD$, ezért $PM \perp AD$, de $AD \parallel d$, így $PM \perp d$. Tehát a (PAD) és (PBC) síkok szöge az MPN szög. (4 pont)

Megjegyzés. Ha a versenyző csak megnevezi a két sík szögét, de nem indokolja meg, akkor 2 pont jár.

Az a oldalhosszú PBC egyenlő oldalú háromszögben PN magasság, ezért $PN = \frac{a\sqrt{3}}{2}$. A PAD egyenlő szárú derékszögű háromszögben $PM = AM = MD = \frac{a}{2}$. A PMN háromszögben

$$PM^2 + PN^2 = \left(\frac{a}{2}\right)^2 + \left(\frac{a\sqrt{3}}{2}\right)^2 = a^2 = MN^2,$$

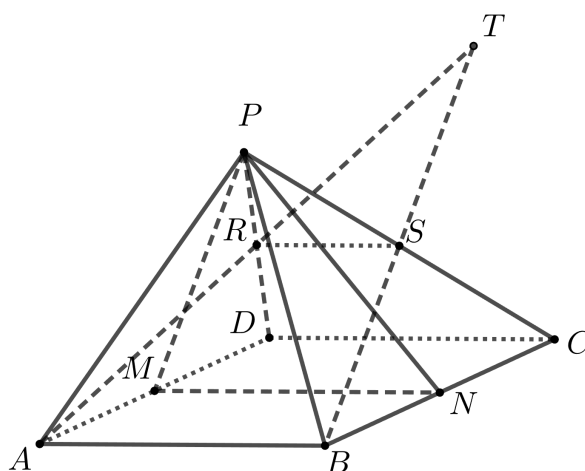
tehát $\widehat{MPN} = 90^\circ$, vagyis $PM \perp PN$, innen következik, hogy a (PAD) és (PBC) síkok merőlegesek egymásra. (4 pont)

b) Mivel $PM \perp AD$ és $MN \perp AD$, ezért a (PAD) és az $(ABCD)$ síkok szöge a PMN szög. (2 pont)

Továbbá $PN \perp BC$ és $MN \perp BC$, ezért a (PBC) és az $(ABCD)$ síkok szöge a PNM szög. (2 pont)

Tehát meg kell határozni a PMN derékszögű háromszögben a hegyesszögek mértékét. A PMN háromszögben a P szög 90° , $MN = a$ és $PM = \frac{a}{2}$, ezért $\widehat{PNM} = 30^\circ$ és $\widehat{PMN} = 60^\circ$. (2 pont)

c) Jelölje R , illetve S a PD , valamint a PC szakasz felezőpontját.



Az RS szakasz középvonal a PDC háromszögben, ezért $RS \parallel DC$ és $RS = \frac{DC}{2} = \frac{AB}{2}$. De $DC \parallel AB$, ezért $RS \parallel AB$, tehát az A, B, R és S pontok egy síkban vannak, ezért AR és BS metsző egyenesek. Legyen T az AR és BS egyenesek metszéspontja. Az $RS \parallel AB$ és $RS = \frac{AB}{2}$, ezért RS középvonal az ABT háromszögben, tehát T az A pontnak az R felezőpont szerinti és a B pontnak az S pont szerinti szimmetrikusa. Mivel S a PC felezőpontja, ezért $BS \perp PC$ a PBC egyenlő oldalú háromszögben, így a B pont PC egyenes szerinti szimmetrikusa megegyezik a B pont S pont szerinti szimmetrikusával. (4 pont)

■

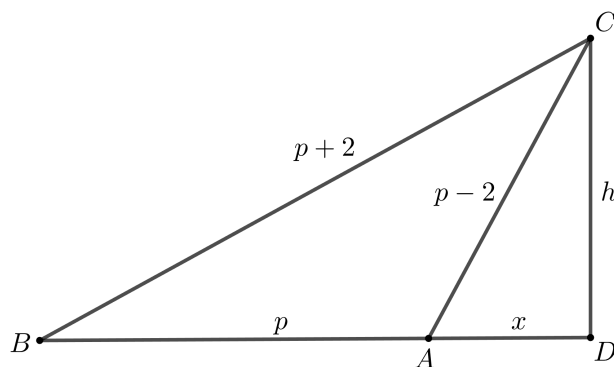
4. feladat (20 pont). Egy tompaszögű háromszög oldalhosszai méterben kifejezve 2-nél nagyobb egymás utáni páratlan természetes számok, és egyik sem négyzetszám. Határozd meg a háromszög oldalainak hosszát és a tompaszög mértékét!

Dávid Géza, Székelyudvarhely

Első megoldás. Hivatalból (2 pont)

Legyenek a háromszög oldalai méterben kifejezve $AC = p - 2$, $AB = p$ és $BC = p + 2$ hosszúságúak, p páratlan és $p \geq 5$. Mivel BC a leghosszabb, ezért az A szög a tompaszög. (2 pont)

Jelölje D a C pontnak az AB -re eső merőleges vetületét. Az $AD = x$ méter és a $CD = h$ méter.



Mivel az ADC és a BDC háromszög derékszögű a D -ben, Pitagorasz tétele alapján

$$\begin{aligned} x^2 + h^2 &= (p-2)^2 \quad \text{és} \\ (p+x)^2 + h^2 &= (p+2)^2. \end{aligned} \quad (4 \text{ pont})$$

A két összefüggést kivonva egymásból azt kapjuk, hogy $(p+x)^2 - x^2 = (p+2)^2 - (p-2)^2$, ahonnan

$$p^2 + 2px = 8p.$$

Ezt elosztva $p \geq 5$ -tel

$$p + 2x = 8. \quad (4 \text{ pont})$$

Mivel $p \geq 5$ páratlan természetes szám, ezért $p = 5$ vagy $p = 7$. (2 pont)

Ha $p = 7$, akkor $p + 2 = 9$, ami négyzetszám, ezért nem megoldás. (2 pont)

Ha $p = 5$, akkor $p - 2 = 3$, $p + 2 = 7$ és $x = 1,5$. Ebben az esetben $AC = 2AD$, tehát az ADC derékszögű háromszögben $\hat{C} = 30^\circ$ és $\hat{A} = 60^\circ$. (2 pont)

Tehát az ABC háromszögben a tompaszög 120° , az oldalak pedig 3 m, 5 m és 7 m hosszúságúak.

(2 pont)

■

Második megoldás. Hivatalból (2 pont)

Legyenek a háromszög oldalai méterben kifejezve $AC = 2l + 1$, $AB = 2l - 1$ és $BC = 2l + 3$ hosszúságúak, ahol $l \geq 2$. Mivel ABC tompaszögű háromszög, ezért

$$\begin{aligned} BC^2 &> AB^2 + AC^2 \\ \iff (2l+3)^2 &> (2l-1)^2 + (2l+1)^2 \\ \iff 0 &> 4l^2 - 12l - 7 \\ \iff 0 &> 4l^2 - 12l + 9 - 16 \\ \iff 16 &> (2l-3)^2. \end{aligned} \quad (4 \text{ pont})$$

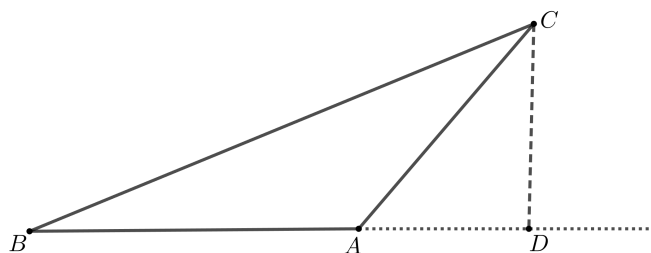
Mivel $l \geq 2$ természetes szám, ezért az l lehetséges értékei: 2 és 3. (6 pont)

Ha $l = 3$, akkor $BC = 9$, ami négyzetszám, tehát nem lehetséges. Ha $l = 2$, akkor $AB = 3$, $AC = 5$ és $BC = 7$. (4 pont)

Ebben az esetben a háromszög területe Héron képlete alapján

$$T = \sqrt{p(p-a)(p-b)(p-c)} = \sqrt{\frac{15}{2} \left(\frac{15}{2} - 3 \right) \left(\frac{15}{2} - 5 \right) \left(\frac{15}{2} - 7 \right)} = \frac{15\sqrt{3}}{4}.$$

Ugyanakkor $T_{ABC} = \frac{AB \cdot CD}{2}$, ahol CD az ABC háromszög C csúcsából húzott magassága.



Ez alapján

$$\frac{15\sqrt{3}}{4} = \frac{3 \cdot CD}{2} \Rightarrow CD = \frac{5\sqrt{3}}{2}.$$

Az ADC háromszögben

$$\sin A = \frac{CD}{AC} = \frac{\sqrt{3}}{2},$$

így $\widehat{DAC} = 60^\circ$, tehát $\widehat{BAC} = 120^\circ$.

(4 pont)



Hivatalból összesen: 10 pont.

Pontszám összesen: 90 pont.

FONTOS TUDNIVALÓ!

Az első két feladat esetében minden javító minden részpontszáma 3-nak többszöröse kell legyen, az utolsó két feladat esetében minden javító minden részpontszáma 2-nek többszöröse kell legyen. Tehát a javítókulcsban megadott pontokat csak akkor lehet felbontani, ha azok 3-nál, illetve 2-nél nagyobbak és ebben az esetben is csak 3, illetve 2 többszöröseire. Ez érvényes az esetleges alternatív megoldásokra is, amelyek a javítókulcsban megadott megoldástól eltérnek.